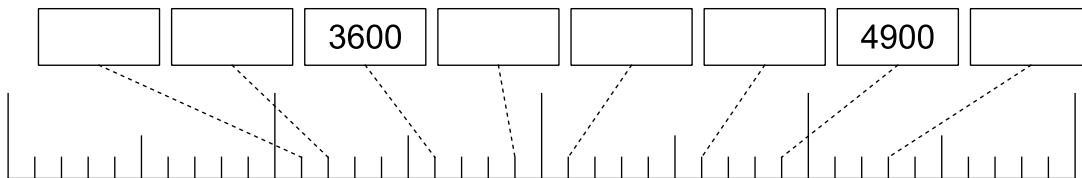
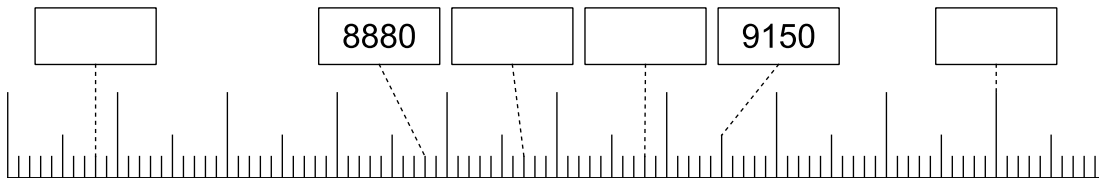
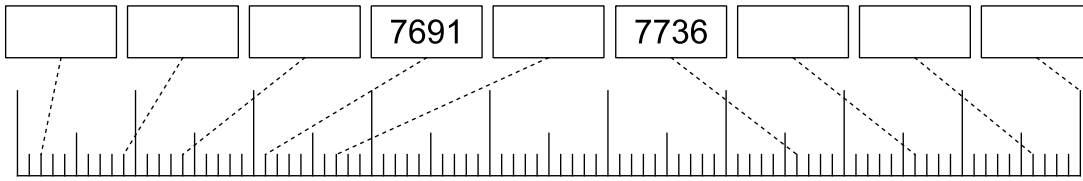




Arbeite mit dem Zahlenstrahl und schreibe die fehlenden Zahlen in die Kästchen.



Stelle die vierstellige Zahl in den verschiedenen Möglichkeiten dar.

8754	$8\text{ T} + 7\text{ H} + 5\text{ Z} + 4\text{ E}$	
		$7000 + 400 + 20$
7842		
	$8\text{ T} + 8\text{ H} + 5\text{ Z} + 2\text{ E}$	



Schreibe nun das Zahlwort als Zahl

fünftausenzweihundertdrei	
viertausenddrei	
sechstausenddreißig	

