


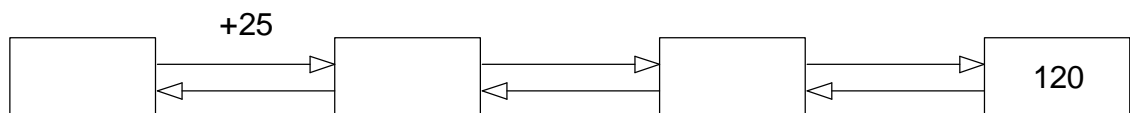
## Denk- und Knobelaufgaben für helle Köpfchen



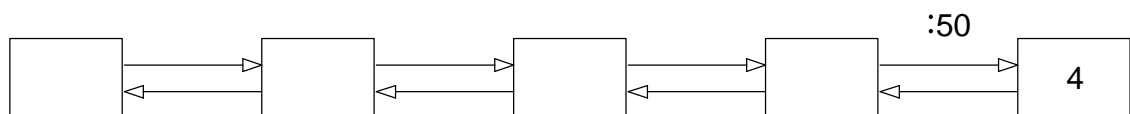
Ich denke mir eine Zahl, zu dieser Zahl addiere ich 5, multipliziere dann mit 3. Mein Ergebnis ist 60. Wie heißt meine gedachte Zahl?



Zu meiner gedachten Zahl addiere ich 25, multipliziere dann mit 2, addiere 4. Mein Ergebnis ist 120. Welche Zahl habe ich mir gedacht?



Katja denkt an eine Zahl. Diese Zahl multipliziert sie mit 6, addiert 18, subtrahiert von diesem Ergebnis 58 und dividiert zum Schluss das Ergebnis mit 50. Sie erhält als Ergebnis die Zahl 4. An welche Zahl hat Katja gedacht?



Anton denkt sich eine Zahl. Von dieser subtrahiert er 27. Jetzt verdoppelt er das Ergebnis, dividiert es durch 10. Zum Schluss addiert er 90. An welche Zahl hat Anton gedacht?

