

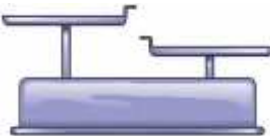


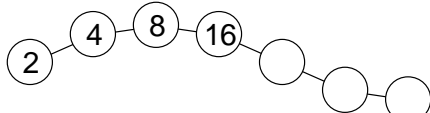
Kontrolliere dein Wissen! Kannst du die 3. Klasse erfolgreich abschließen?

★ Peter hat 7 Gewichte für seine Waage. Es sind aber nur 50 g und 20 g Gewichte. Zusammen sind es 200 g. Wie viele Gewichte hat er von jeder Sorte?

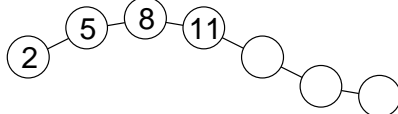





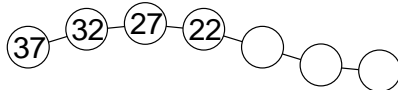
★ Finde die beiden nächsten Zahlen der Zahlenfolgen und schreibe auf, wie du weiter Zahlen finden kannst.



immer:



immer:



immer:

★ Wandle um.

3162 ct	=€.....ct	234 min	= hmin
12 € 6ct	=ct	367 s	= min s
225 ct	= €ct	255 s	= min s

★ Verbinde die Dinge mit dem richtigen Gewicht.

Tafel Schokolade	10 kg
eine Tintenpatrone	1kg
Tüte Zucker	1 g
gefüllter Wassereimer	100 g

