


*Sachaufgaben Klasse 2 - Rechnen mit Geld*



*Du kannst in einen Spielzeugladen gehen und 50 Euro, die du als Geburtstagsgeschenk erhalten hast, ausgeben.  
Was kaufst du dir von dem Geld?*



*Fußball  
19,95 €*



*Buch  
9,90 €*



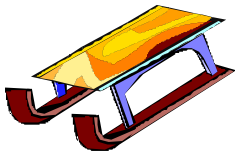
*Puppe  
3,99 €*



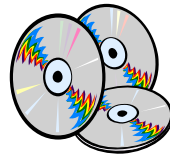
*Teddy  
7,00 €*



*CD- Player  
39,90 €*



*Schlitten  
29,95 €*



*CD  
12,95 €*



*Würfelspiel  
14,90 €*

1. Was kannst du für 50 Euro kaufen?

.....  
.....  
.....

a) Rechne mit Überschlag!

.....  
.....  
.....

b) Rechne jetzt genau!

.....  
.....  
.....