




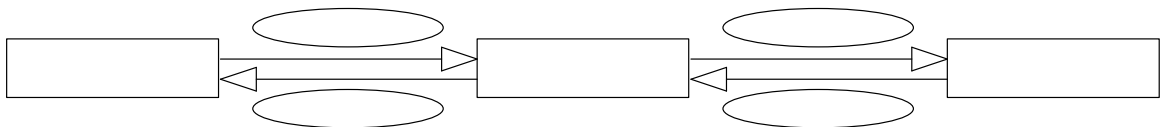
Textaufgaben mit Pfeilbildern rechnen




Ich denke mir eine Zahl, diese dividiere ich durch 51. Dieses Ergebnis dividiere ich durch 6.
Ich erhalte die Zahl 2.
Wie heißt meine gedachte Zahl?



Zu meiner gedachten Zahl addiere ich 198 zu dieser Summe addiere ich noch einmal 294.
Die Endsumme beträgt 884. Wie heißt meine gedachte Zahl?



Meine gedachte Zahl multipliziere ich mit 26. Danach addiere ich zu diesem Produkt die Zahl 96.
Die Endsumme beträgt 200. Wie heißt meine gedachte Zahl?



Schlau rechnen!

