



Jetzt kann ich die Uhr!

Trage die Uhrzeiten ein für die Früh- und die Spätzeit.




_____ Uhr

----- Uhr




_____ Uhr

----- Uhr



_____ Uhr

----- Uhr



_____ Uhr

----- Uhr

Welche Angaben passen zusammen? Verbinde immer mit einer anderen Farbe!

viertel fünf

Mitternacht


17.45 Uhr

16.15 Uhr

24.00Uhr


drei viertel sechs

0.00 Uhr




_____ Uhr

Die Sportstunde dauert 2 Stunden. Wann ist sie zu Ende?




_____ Uhr



_____ Uhr

Der Film dauert 90 Minuten. Wann gehen die Kinder wieder nach Hause?



_____ Uhr