

Wie viele Stunden haben
8 Tage?

Bild:


Antwort:



Wie viele Stunden sind
375 Minuten? Gib den
Rest in Minuten an.

Bild:


Antwort:



_____ Uhr

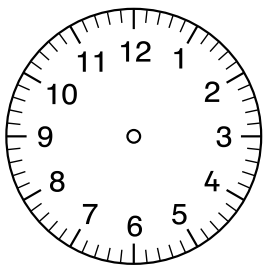
_____ Uhr

Wie viel Zeit ist vergangen?



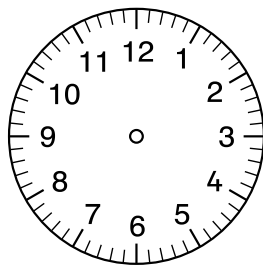
_____ Uhr

_____ Uhr



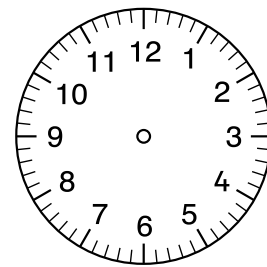
_____ Uhr

14:17 Uhr



8:05 Uhr

_____ Uhr



10:41 Uhr

_____ Uhr