
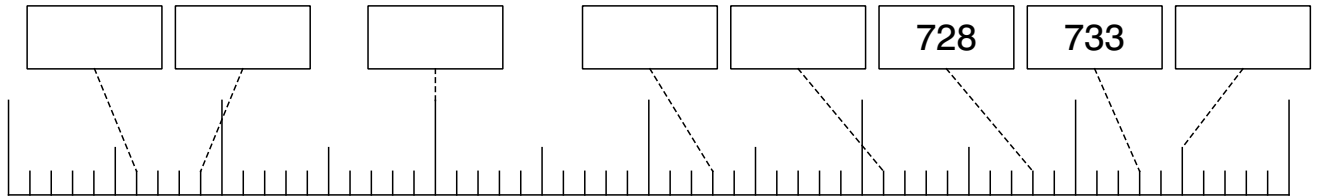
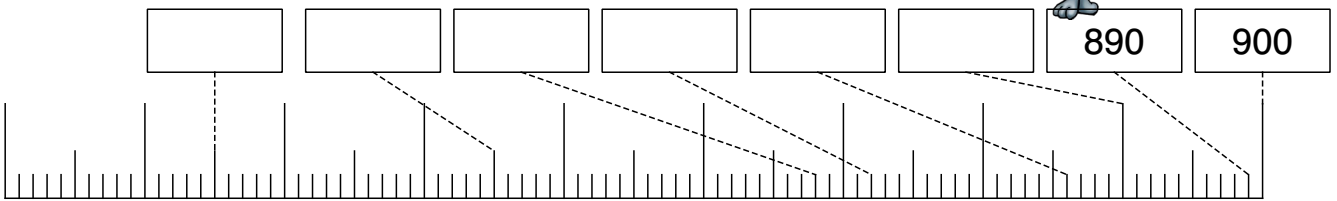


Den Zahlenraum bis 1000 entdecken!



Trage die Zahlen ein!



Trage die fehlenden Nachbarn ein!



Nachbarhunderter	Nachbarzehner	Vorgänger	Zahl	Nachfolger	Nachbarzehner	Nachbarhunderter
			467			
		725				
				799		

Zähle weiter- vorwärts und auch rückwärts!



		899		
	700			
				1000
599				

Schreibe die Zahlen untereinander auf und addiere!

3H7Z6E+ 4H7Z2E	1H8Z0E+4H0Z9E	6H3Z2E+1H0Z3E
----------------	---------------	---------------
